

## PHIẾU BÀI TẬP SỐ 5

### I. Câu hỏi trắc nghiệm

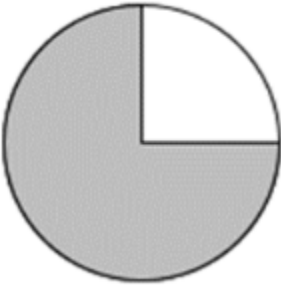
**Câu 1:** Viết phân số âm năm phần tám

- A.  $\frac{5}{8}$       B.  $\frac{-5}{8}$       C.  $\frac{8}{-5}$       D. -5,8

**Câu 2:** Trong các cách viết sau đây, cách viết nào cho ta phân số:

- A.  $\frac{12}{0}$       B.  $\frac{-5}{4}$       C.  $\frac{3}{-2,5}$       D.  $\frac{4,4}{8,2}$

**Câu 3:** Phần tô màu trong hình sau biểu diễn phân nào?



- A.  $\frac{1}{2}$       B.  $\frac{1}{4}$       C.  $\frac{3}{4}$       D.  $\frac{5}{8}$

**Câu 4:** Hãy viết phép chia sau dưới dạng phân số :  $(-58):73$

- A.  $\frac{-58}{73}$       B.  $\frac{58}{73}$       C.  $\frac{73}{-58}$       D.  $\frac{-58}{-73}$

**Câu 5:** Phần tô màu trong hình sau biểu diễn phân số nào ?



- A.  $\frac{1}{2}$       B.  $\frac{1}{4}$       C.  $\frac{3}{4}$       D.  $\frac{5}{8}$

**Câu 6:** Cho các số: -1, 2, 3. có thể lập được tất cả bao nhiêu phân số có tử và mẫu là 2 trong 3 số đó. (phân số có tử và mẫu khác nhau)

- A. 2      B. 4      C. 6      D. 8

**Câu 7:** Cho các số: 0, 2, -5. có thể lập được tất cả bao nhiêu phân số có tử và mẫu là 2 trong 3 số đó. (phân số có tử và mẫu khác nhau)

- A. 2      B. 4      C. 6      D. 8

### II. Bài tập tự luận

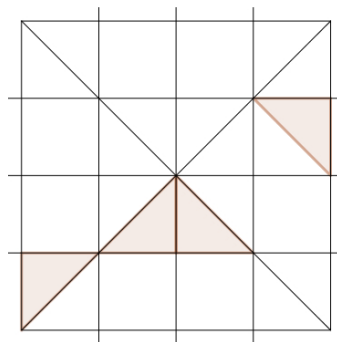
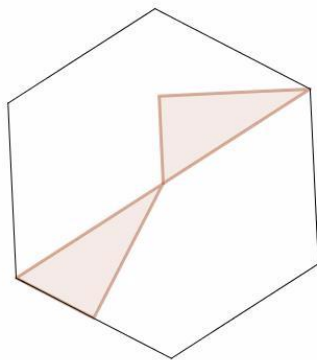
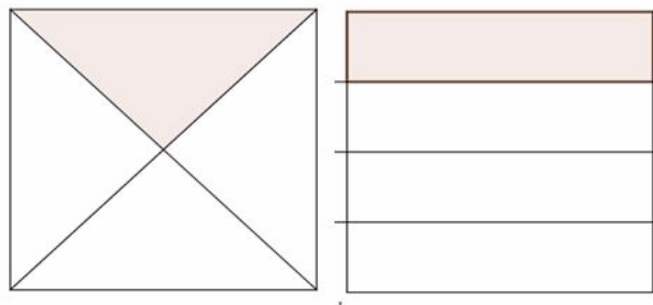
**Bài 1:** Chỉ ra phân số trong các cách viết sau:

$$\frac{2}{0}; \frac{5,34}{3}; \frac{4}{2,4}; \frac{-1}{4}; \frac{2}{-7}$$

**Bài 2:** Viết các phép chia sau dưới dạng phân số

- a) 5:17      b) -2:7      c) -9: (-5)  
 d) -3:5      e) 6: (-5)      f) k: (-5) ( $k \in \mathbb{Z}$ )

**Bài 3:** Phần tô màu trong các hình vẽ sau biểu diễn phân số nào?



**Bài 4:**

1. Viết các số đo thời gian sau đây với đơn vị là giờ

- a) 11 phút      b) 35 phút  
 c) 90 phút      d) 43 phút

2. Viết các số đo sau đây với đơn vị là mét

- a) 25cm      b) 355 cm  
 c) 45mm      d) 474 dm

**Bài 5:** Cho biểu thức  $B = \frac{-2}{n-6}$  với n là số nguyên

- a) Số nguyên n phải có điều kiện gì để B là phân số?  
 b) Tính B, biết  $n=0; n=-1; n=9$

\* Các con làm thêm các bài tập: 1,2,3,4,5,6,7,8 trong SBT trang 5,6.